

NOCIONES BASICAS DE GEOMETRIA

GRADO 4

Pictogramas

Observa y responde 1.) La profesora regaló a los estudiantes del grado cuarto sticker por buen comportamiento y estos son los estudiantes que han recibido mayor cantidad

Stickers Ganado esta semana ☺ = un sticker

Alumnos	Stickers
Daniela	☺☺☺☺☺☺
Miranda	☺☺☺☺☺
Christopher	☺☺☺☺☺☺☺
Liz	☺☺☺☺☺☺☺☺
Tomás	☺☺☺☺☺☺☺

a.) ¿Quién ganó más stickers?






b.) ¿Cuántos stickers ganaron Daniel y Miranda juntas? _____

c.) ¿Cuántos stickers tiene Tomás más que Miranda? _____

d.) ¿Cuántos stickers tiene más que Liz más que Daniela?

2.) En la pastelería Rose se vendieron la siguiente cantidad de tortas en la semana:

Tortas vendidas  = 3 tortas

Días de la semana	Tortas Vendidas
Lunes	
Martes	
Miércoles	
Jueves	
Viernes	

a.) ¿Cuál es el día que se vendieron menos tortas? _____

b.) ¿Cuántas tortas se vendieron ese día? _____

c.) ¿Cuál es el día que se vendieron más tortas?

d.) ¿Cuántas tortas se vendieron ese día?

e.) ¿Cuántas tortas menos se vendieron el jueves que el miércoles?

3.) Los libros prestados en la biblioteca de la escuela



Días de la semana	Libros prestados
Lunes	
Martes	
Miércoles	
Jueves	
Viernes	

a.) ¿Cuántos libros se prestaron el martes?

b.) ¿Cuántos libros se prestaron el viernes más que el jueves?

c.) ¿Qué habrá sucedido el lunes en la biblioteca?

d.) ¿Cuántos libros se prestaron en la semana?

4.) Los resultados de una encuesta para saber cuál es la actividad de vacaciones favorita de un pequeño grupo de niños se representan en la siguiente tabla:

Actividades de vacaciones	
Voleibol playa	12
Natación	6
Campamento	6

Si cada 😊 representa 3 niños, el pictograma que corresponde a la información anterior, es

A.

Actividades de vacaciones	
Voleibol playa	😊😊😊😊
Natación	😊😊
Campamento	😊😊😊

B.

Actividades de vacaciones	
Voleibol playa	😊😊😊
Natación	😊😊😊
Campamento	😊😊😊😊

C.

Actividades de vacaciones	
Voleibol playa	😊😊😊
Natación	😊😊😊😊
Campamento	😊😊

D.

Actividades de vacaciones	
Voleibol playa	😊😊
Natación	😊😊😊😊
Campamento	😊😊

5.) Observa la información del siguiente pictograma y responde ¿qué animal vive más de 30 años?



A.

Elefante asiático

B.

Oso Gris









C.

Oso Polar

D.

Gorila

6. Los alumnos de Educación Primaria de una Institución Educativa, se van de paseo a Parque de las Leyendas. Completa el siguiente pictograma

Grado	Cada   = 5 alumnos	Niñas	Niños	Total
1° grado				
2° grado				
3° grado				
4° grado				
5° grado				
6° grado				
Total				

a.) ¿Cuántos estudiantes de 4° grado fueron al paseo? _____

b.) ¿ Cuántas niñas de 2° grado fueron al paseo? _____

c.) ¿ Cuántos niños de 2° grado fueron al paseo? _____

d.) ¿ Cuántos estudiantes de 3° grado fueron al paseo? _____

e.) ¿Cuántos estudiantes en total fueron al paseo? _____